



FORMATO

TALLER DE ASIGNATURAS POR DIA

Código: **F-PD-GC-23**
Versión: 1
Fecha: 9 de junio del 2008
Página 1 de 7

18-MARZO-2020

ASIGNATURA DE PLAN LECTOR

Tarea.

Lee el capítulo 5 y 6 del libro “Mi ángel de la guarda” para la próxima semana.

ASIGNATURA DE SOCIALES

Lee y transcribe la siguiente información.

MUNICIPIOS DE RISALADA

El Departamento de Risaralda está conformado política y administrativamente por 14 municipios: Pereira, ciudad capital, Apía, Balboa, Belén de Umbría, Dosquebradas, Guática, La Celia, La Virginia, Marsella, Mistrató, Pueblo Rico, Quinchía, Santa Rosa de Cabal y Santuario; al igual que 29 corregimientos, 58 caseríos, 7 inspecciones de policía y 66 centros poblados. Para el año 2017 registra 249.797 predios urbanos y 67.705 rurales

TAREA

Coloreo el mapa de Risaralda y soluciona la sopa de letras.

MUNICIPIOS DEL DEPARTAMENTO DE RISARALDA



E	S	R	P	E	R	E	I	R	A	R	E	C	D	D	S	E	D	B
N	A	R	S	V	R	O	E	S	M	U	N	I	C	I	P	I	O	S
A	N	C	A	A	P	U	E	B	L	O	R	I	C	O	I	A	A	C
T	T	D	I	A	D	A	E	N	Q	P	A	E	O	D	E	I	S	A
A	A	A	I	I	C	A	C	P	C	O	L	J	T	U	L	O	S	R
I	R	E	V	R	I	E	R	E	J	E	C	A	F	E	T	E	R	O
H	O	C	A	B	O	S	R	B	A	I	S	A	C	A	E	E	A	S
C	S	A	U	M	E	E	A	L	E	O	I	A	D	A	S	I	T	A
N	A	O	M	U	N	E	R	N	E	U	L	R	B	E	F	S	U	R
I	D	M	L	E	I	A	M	I	T	A	Q	A	E	A	O	U	R	A
U	E	A	I	D	E	T	O	R	M	U	C	S	R	E	R	A	I	L
Q	C	R	I	N	A	I	H	I	I	I	A	G	O	A	D	N	S	O
E	A	S	A	E	R	I	L	I	E	S	O	R	E	D	I	S	M	E
E	V	E	O	L	A	C	L	T	S	R	A	E	I	G	E	I	O	E
N	A	L	B	E	U	M	C	L	D	S	B	R	R	O	S	S	R	L
I	L	L	L	B	Y	M	R	I	L	A	A	I	A	P	I	A	R	D
U	D	A	A	S	A	M	H	R	N	P	V	F	I	L	A	D	O	I
G	L	A	B	L	N	A	C	A	H	A	I	M	M	R	D	D	A	G
A	M	I	S	T	R	A	T	O	L	S	S	E	O	A	E	A	I	D

Palabras a buscar:

RISARALDA MISTRATO

QUINCHIA PUEBLORICO

BELENDEUMBRIA APIA

SANTUARIO LACELIA BALBOA

LAVIRGINIA MARSELLA

PEREIRA DOSQUEBRADAS

SANTAROSADECAVAL MUNICIPIOS

EJECAFETERO TURISMO CLIMA

HIDROGRAFIA

ASIGNATURA DE SISTEMAS

Transcribe, lee y marca una x la respuesta correcta.

1. Los procesos son fases sucesivas (paso a paso ordenadamente) de operaciones que permiten la transformación de recursos y situaciones para lograr objetivos y desarrollar productos y servicios esperados.

De acuerdo con la información anterior, ¿Cuál es el orden correspondiente a recurso y producto, respectivamente?

- A. El cuero: zapatos, bolsos, correas.
 - B. El papel: madera, sillas, camas.
 - C. La gasolina: plásticos, aceites, petróleo.
 - D. El queso: yogur, leche, kumis.
-
2. ¿cuál de las siguientes opciones representa artefactos?
 - A. Generación de energía eléctrica.
 - B. Redes de transporte urbano.
 - C. Puerta, mesa libro, cuchillo.
 - D. Tecnológicas de la información y la comunicación.

ASIGNATURA DE NATURALES

Lee y transcribe el siguiente tema de naturales.

El ciclo del carbono

El carbono es un elemento fundamental en todas las moléculas que nos conforman. Él se encuentra por todas partes, hasta en el aire.

Las plantas toman el dióxido de carbono del aire a través de la fotosíntesis y forman los azúcares; los demás organismos obtenemos el carbono, al igual que la energía, gracias a las cadenas alimentarias: los herbívoros lo obtienen al consumir las plantas y los carnívoros al consumir otros animales que se alimentan de plantas. Durante la respiración, los animales liberamos el carbono que regresa al aire cuando lo exhalamos en forma de dióxido de carbono.

El carbono presente en los organismos muertos regresa al medio, ya sea al aire o al suelo, por acción de los descomponedores, y queda libre para ser usado nuevamente por otros organismos.

Hace mucho tiempo se acumularon plantas muertas que, con el paso de los años, se transformaron en combustibles fósiles como el petróleo, el carbón o el gas, ricos en carbono. Hoy en día usamos estos combustibles en las industrias y para hacer funcionar autos y toda clase de aparatos. Al usarlos, se libera dióxido de carbono que, una vez más, regresa al medio.

Actividad

Responde las siguientes preguntas en tu cuaderno, teniendo en cuenta la información anterior.




1. ¿Cómo toman las plantas el dióxido d carbono?
2. ¿Cómo obtienen los demás organismos el carbono?
3. ¿Durante la respiración que liberan los animales?
4. ¿Cuándo exhalamos que liberamos?
5. ¿Qué paso con la acumulación de plantas muertas?
6. Realiza un dibujo de una cadena alimentaria.

ASIGNATURA DE ESPAÑOL

Actividad

Resuelve los siguientes ejercicios en el cuaderno.

1. Completa los adjetivos con las vocales que faltan.

		
HELADO D _ L _ C _ _ S _	OLA G _ G _ NT _ SC _	SOL _ RD _ _ NT _
		
SOFÁ C _ M _ D _	CHALINA H _ M _ D _	JARRÓN R _ T _
		
LAPICERO N _ GR _	PELUCA R _ B _ _	PAPEL H _ G _ _ N _ C _
		
RELOJ D _ SP _ RT _ D _ R _	GUIARRA _ L _ CTR _ C _	PALOMA BL _ NC _
		
COLLAR F _ N _ S _ M _	VASO TR _ NSP _ R _ NT _	LÁMPARA L _ M _ N _ S _
		
ROSA P _ RF _ M _ D _	PLÁTANO M _ D _ R _	PERRO J _ G _ _ T _ N

2. Encuentra adjetivos calificativos y enciérralos.

Bello	zorro	saltar	largo
Caliente	lento	sabio	amarillo
Gordo	árbol	nuevo	hambriento
Suave	verde	reloj	puntual
Alto	casa	reir	corral

3. Coloca cada adjetivo del recuadro en cada oración, según corresponda.

- La gata _____ cogió la lana.
- La mochila _____ se perdió.
- Los _____ alumnos ganaron el concurso de matemáticas.
- La _____ rosa, crece en el jardín.
- Los _____ atletas participaron en la competencia.
- Las carpetas _____ serán pintadas.
- Los niños _____ cantaron una canción.
- El perro _____ escondió su hueso.