

TALLER DEL DIA MARTES 17-03-2020

ASIGNATURA DE MATEMATICAS

1. Transcribo y Resuelvo los siguientes ejercicios, ten en cuenta las flechas y los signos.

$$\begin{array}{r} 23 \times (3 \times 13) \\ \downarrow \quad \downarrow \downarrow \\ \underline{\quad} \times \underline{\quad} \\ \downarrow \quad \downarrow \\ \underline{\quad} \end{array}$$

$$\begin{array}{r} (23 \times 3) \times 13 \\ \downarrow \downarrow \quad \downarrow \\ \underline{\quad} \times \underline{\quad} \\ \downarrow \quad \downarrow \\ \underline{\quad} \end{array}$$

$$\begin{array}{r} 345 \times (45 \times 7) \\ \downarrow \quad \downarrow \downarrow \\ \underline{\quad} \times \underline{\quad} \\ \downarrow \quad \downarrow \\ \underline{\quad} \end{array}$$

$$\begin{array}{r} (345 \times 45) \times 7 \\ \downarrow \downarrow \quad \downarrow \\ \underline{\quad} \times \underline{\quad} \\ \downarrow \quad \downarrow \\ \underline{\quad} \end{array}$$

$$\begin{array}{r} 34 \times 5 = 5 \times 34 \\ \downarrow \downarrow \quad \downarrow \downarrow \\ \underline{\quad} = \underline{\quad} \end{array}$$

$$\begin{array}{r} 675 \times 8 = 8 \times 675 \\ \downarrow \downarrow \quad \downarrow \downarrow \\ \underline{\quad} = \underline{\quad} \end{array}$$

$$\begin{array}{r} 5.674 \times 34 = 34 \times 5.674 \\ \downarrow \downarrow \quad \downarrow \downarrow \\ \underline{\quad} = \underline{\quad} \end{array}$$

$$\begin{array}{r} 1.675 \times 23 = 23 \times 1.675 \\ \downarrow \downarrow \quad \downarrow \downarrow \\ \underline{\quad} = \underline{\quad} \end{array}$$

$$23 \times (6 + 3) = (23 \times 6) + (23 \times 3)$$



$$\underline{\quad} \times \underline{\quad} = \underline{\quad} + \underline{\quad}$$



$$\underline{\quad} = \underline{\quad}$$

$$34 \times (23 + 12) = (34 \times 23) + (34 \times 12)$$



$$\underline{\quad} \times \underline{\quad} = \underline{\quad} + \underline{\quad}$$



$$\underline{\quad} = \underline{\quad}$$

2. Transcribo y Soluciono las situaciones problemas de sumas, restas y multiplicaciones.

- A. Una caja tiene 475 abanicos ¿Cuántas abanicos habrá en 24 cajas?
- B. En el colegio compró 234 libros a 1.400 cada uno ¿Cuánto costaron en total?
- C. En una finca hay 256 árboles, si cada uno tiene 25 manzanas ¿Cuántas manzanas hay en total?
- D. 25 amigos compraron 21 rifas cada uno ¿Cuántas rifas hay en total?
- E. Durante las elecciones municipales votaron 56.567 personas. Si de ellas 24,456 son mujeres. ¿Cuántos hombres votaron?

ASIGNATURA DE ESPAÑOL

Actividad

Resuelve los siguientes ejercicios en el cuaderno.

1. Une cada sustantivo con su adjetivo.


Sustantivos	Adjetivos	Sustantivos	Adjetivos
Maleta	luminosa	amigo	tranquila
Habitación	polvoriento	película	simpático
Camino	pesada	ejercicio	entretenida
Armario	macizo	chica	difícil

2. Encierra en un círculo el adjetivo que concuerde con cada sustantivo y escríbelo.




Blancas
Limpio
Limpia


Blusa limpia



negro
pequeñas
tajados



nuevas
usadas
transparentes



Sabrosas
Maduro
Amarillos



moradas
verde
baratos



exquisitos
exquisita
partido

3. Marca y Escoge el adjetivo correcto.

1. gente	simpática	a
	Simpático	b
2. cajero	trabajadora	a
	Trabajador	b
3. cojín	nuevo	a
	Nueva	b
4. guante	pequeña	a
	Pequeño	b
5. playa	calurosa	a
	Caluroso	b
6. niño	respetuosa	a
	Respetuoso	b
7. calle	ancha	a
	Ancho	b

4. Escribe un adjetivo calificativo para cada sustantivo. (Recuerda que los ADJETIVOS CALIFICATIVOS nombran cualidades como alta, inteligente, bonita, atrevida, etc.)









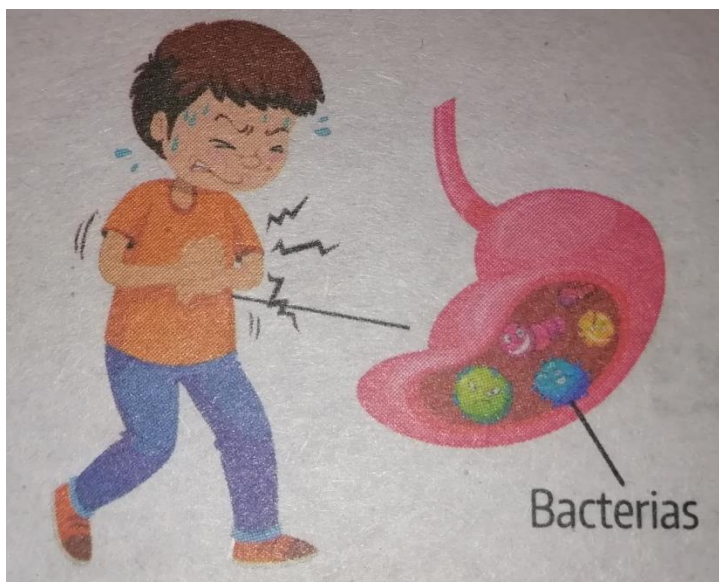




ASIGNATURA DE SISTEMAS

Transcribe y marca con una X la respuesta correcta.

1. Observa la imagen.



De acuerdo con la imagen, de las causas del dolor de estómago del niño de la imagen es que:

- A. recibió un golpe de un compañero del colegio.
 - B. Consumió un producto con fecha de fabricación vencida.
 - C. Recibió una noticia muy fuerte y desagradable.
 - D. consumió un producto con fecha de caducidad vencida.
2. En el proceso del lavado de ropa es necesario tener en cuenta el tipo y la cantidad de prendas, el detergente a utilizar, la cantidad de agua necesaria para lavar, enjuagar, el peso, el transporte de la misma y la zona para secar entre otras.
- ¿Cuál de las siguientes herramientas es la adecuada para lavar una cantidad grande de ropa en un corto tiempo?

- A. Piedra y rio
- B. Lavadora eléctrica.
- C. Lavadero prefabricado.
- D. Pala y madera de lavar.

ASIGNATURA DE CATEDRA DE PAZ

Lee y Transcribe el siguiente tema.

MEMORIA COLECTIVA

Difícilmente podríamos hablar de una memoria totalmente personal, puesto que nuestros recuerdos particulares se encuentran condicionados por nuestra vida en sociedad. La sociedad tiene memoria (la memoria colectiva) y esta no nos es indiferente, ya que nosotros como seres sociales bebemos de esa memoria y, al mismo tiempo, aportamos memoria a esa sociedad. A pesar de que ustedes son niños y jóvenes no recuerdan y desconocen muchos hechos históricos de Risaralda y Colombia, tus padres y toda tu familia tienen imágenes y sensaciones personales y colectivas acerca de esos hechos tan importantes que han pasado en Colombia, porque han sido influenciados por esa memoria colectiva año tras año. Así que la memoria en primer lugar es colectiva e individual al mismo tiempo.

Tarea

Busco, pego ó dibujo una imagen de un acontecimiento importante que haya pasado en Risaralda.